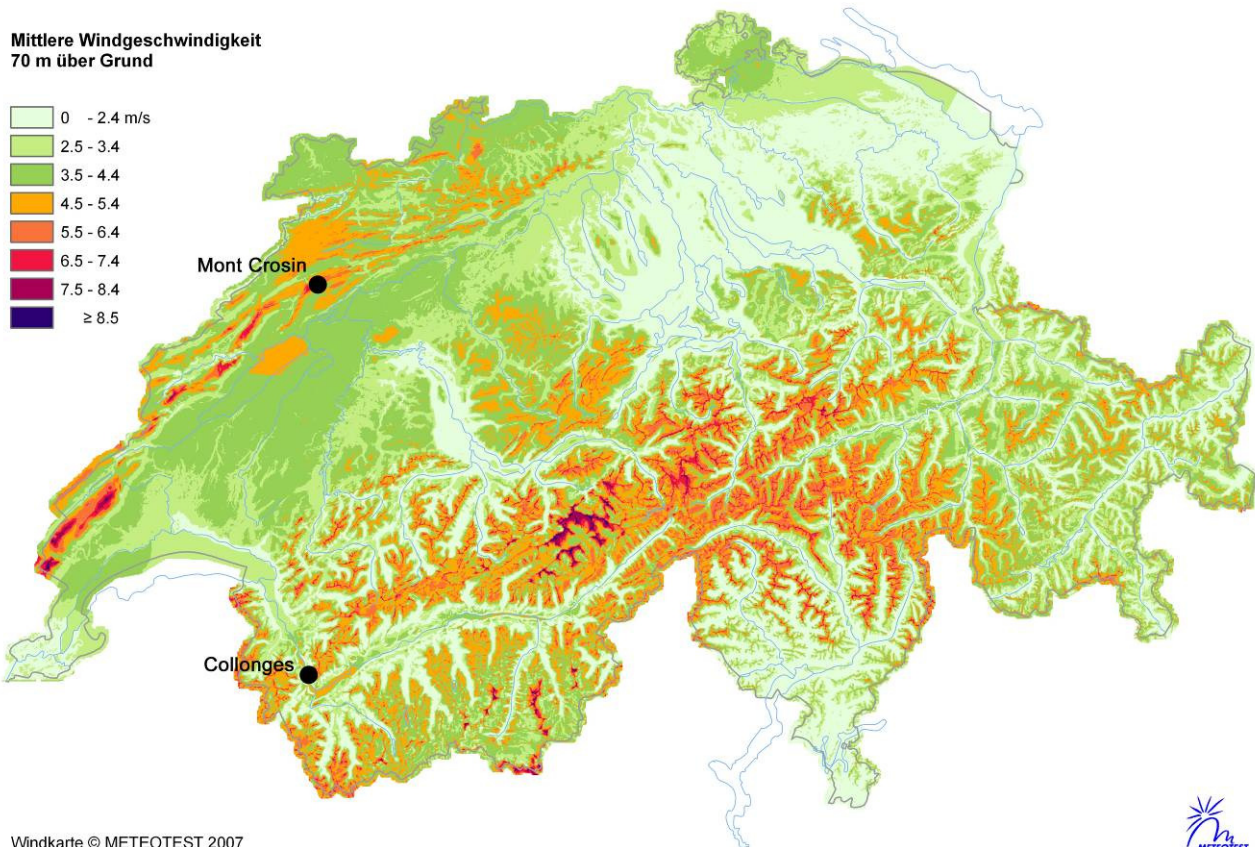




1. Betrachtet die Windkarte der Schweiz. Die Farben geben die verschiedenen Windstärken an. Je heller, desto weniger Wind, je dunkler desto mehr Wind. Wo würdet ihr in der Schweiz Windturbinen bauen? Zeichnet mögliche Standorte in der Karte ein.



2. Wo und warum kann es sinnvoll sein, auch kleine Windturbinen aufzustellen?

3. In der Schweiz hat es im Jura und im Wallis Windturbinen, die Strom produzieren. Im Jura (Mont Crosin) sind die Windturbinen drehbar. Im Wallis (Collonges) sind die Windturbinen fixiert. Sucht die Standorte auf der Windkarte und auf einer Landkarte.



Mont Crosin



Collonges

Warum denkt ihr, wurden auf dem Mont Crosin drehbare und in Collonges fixe Windturbinen gewählt? Diskutiert und notiert eure Vermutung.